

Světové strany – mapa (ve své odpovědi uváděj hlavní a vedlejší světové strany)

1. Na kterém konci hliněného srázku je umístěna kontrola?



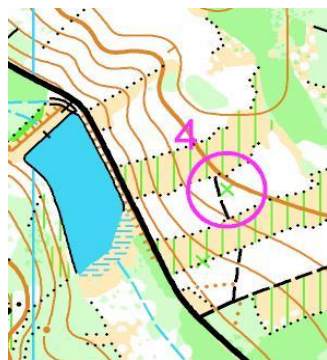
2. Kudy bychom šli od kontroly přímo na ohyb cesty?



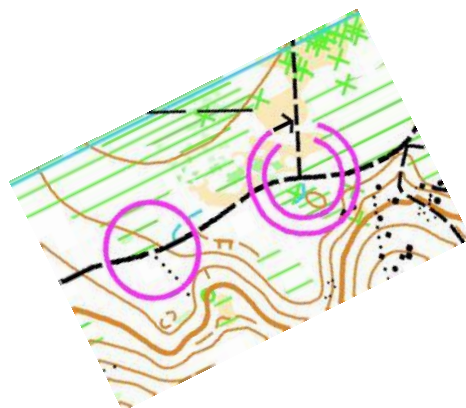
3. Jakým směrem leží od kontroly ohrada s budovou?



4. Kudy poběžíš rovně na hráz rybníka?



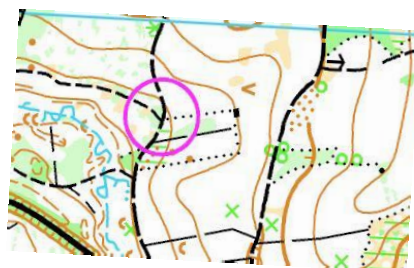
5. Jaký směr určuje cestu ze sběrky do cíle?



6. Kde se od kontroly nachází malý hustníček u kupky?



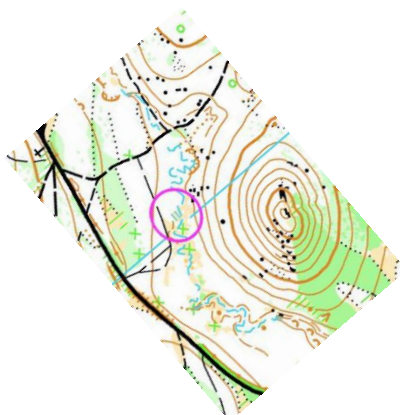
7. Na jakou stranu od kontroly směřuje pěšina?



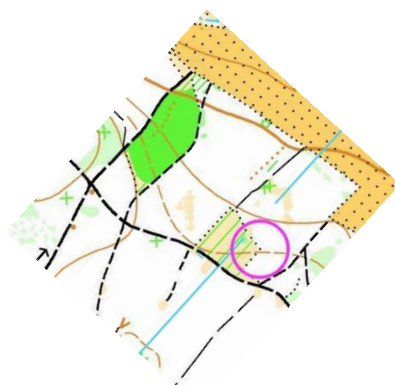
8. Na kterou stranu oplocenky naběhneš?



9. Jakým směrem od kontroly se tyčí kopec ?



10. Na kterém rohu paseky bys orazil kontrolu ?



11. Jak upřesníš umístění kontroly č. 8 na srázu?



12. Kontrola je na kupce. Na které?

